


1 次の各問に答えなさい。

9点(9点)



- 約1万年前に最後の氷期が終わり地球の温暖化が進むと、海面にどんな変化が現れてきたのか？
- 問1の変化の結果、大型の動物が(中国)大陸から日本列島にやって来ることがなくなったが、この頃には、道具も石を磨いて作った何と言う石器が作られるようになっていたのか？
- 資料 I は、問2の石器が使われた時代の人々の集落を復元したものだが、青森県で発見されたこの写真の遺跡は何と呼ばれる遺跡なのか？

なお、この遺跡で集落が栄えたのは紀元前3世紀までの時代だが、その時代を何時代と呼んでいるのか？

- 資料 I の遺跡に見られる、資料 II の建物のことを何と言うのか？
- 問3の時代に、まじないなどに用いられたと考えられる右の写真のようなものを何と言うのか？



- 資料 I の遺跡からは3カ所の盛土が見つかっていて、この盛土を見ると、当時の人々が何を食べていたのかがわかる。ところが、その盛土から出てくる動物の骨についてまとめた資料 III を見ると、出土した動物の骨は、資料 I の遺跡と同じ時代の一般的な遺跡からのものでは違っていることがわかる。

では、同時代の一般の遺跡から出土した動物の骨と比較すると、この遺跡から出土した動物の骨には、どんな違いがあることがわかるのか？

資料 III ■ 資料 I の遺跡から出土した動物の骨

・ムササビ(37.8%)	・タヌキ(2.7%)
・ノウサギ(36.5%)	・イノシシ(2.7%)
・イタチ(6.8%)	・シカ(1.4%)
・キツネ(5.4%)	・クマ(1.4%)
・リス(4.1%)	・アシカ(1.4%)

□ 同時代の一般的遺跡から出土した動物の骨

・シカ(39.3%)	・サル(2.2%)
・イノシシ(37.7%)	・ムササビ(2.0%)
・ノウサギ(6.7%)	・カワウソ(1.2%)
・タヌキ(3.3%)	・テン(1.1%)
・アナグマ(2.9%)	・その他(3.5%)


- 問3の遺跡では1500年間、最大500人もの人々が生活していたことがわかっているが、その食料が動物や植物だけでは、そんな長期間、それだけの人口を支えることは不可能である。では、問3の遺跡で生活していた人々の生活を支えていた食料とは、何だったと考えられるのか？

8. 問3の遺跡を含めて紀元前3世紀までの時代の遺跡からは、武器は出土していない。また、この時代の遺跡からは、身体に障害のある人でも平均寿命より長生きをしたことを示す骨が出土している。

これらの事実は、この時代がどんな時代だったことを意味しているのか？ 2つの事実から考えられることを答えなさい。

2 米作りのムラについて、後の各問いに答えなさい。

13点(22点)



1. 縄文時代の人々が知らなかった米づくりが、紀元前3世紀頃に大陸から日本列島に伝えられたと言われている。

では、この「米づくりが伝わった」というのは、A:「大陸の人々が米づくりを教えに日本列島にやってきた」ということなのか？ それとも、B:「日本列島へとやってきた人々が米づくりを始めた」ということなのか？ 自分の考える結論の記号(AかB)で答えなさい。

2. 米づくりが始まった新しい生活と文化の弥生時代の大きなムラのようなすがわかる佐賀県にある遺跡を何遺跡というのか？

3. 弥生時代の米づくりでの種まきの方法は、直播きだったのか？ 田植えだったのか？


4. 資料Iの中から、次の作業(=ア〜ウ)をしている人を見つけ出し、A〜Cから選び、その記号で答えなさい。

ア：米と粃殻を分けている　イ：稲の穂先を摘み取っている　ウ：全体の指示をしている

5. 弥生時代の稲刈りの時に使われた資料Ⅱの道具で、矢印で示してある道具を何と言うのか？
また、その道具で刈り取っていたのが「稲の穂先の部分」だったのは、どうしてだったのか？ その理由を簡単に説明しなさい。
6. 資料Ⅲの土器を何土器というのか？
7. 刈り取った稲を蓄えた資料Ⅳの建物を何というのか？
8. 問2の遺跡からは資料Ⅴのような骨が出土しているが、このことは、この時代には何が起きていたことを意味しているのか？
9. 問8のことから考えると、問2の遺跡に建てられている資料Ⅵは、何のためにつくられた建物だと考えられるのか？
10. 問2の遺跡からは、管玉と銅剣が入れられたかめ棺が出土している。そのことから、このかめ棺に葬られた人物が特別な存在だったことがわかる。
では、この人物のことを、この遺跡の人たちは、A：支配者的な人物と見ていたのか？ それとも、B：指導者的な人物と見ていたのか？ 自分の考える結論(＝AかBか)と、その理由について文章で答えなさい。

3 次の資料を見て、後の各問いに答えなさい。

9点(31点)



資料Ⅱ　女王国は、もとは男子が王となっていて70～80年ほど治めていたが、その間に倭に大乱が起こり互いに攻めあった。その後、人々は共に一女子を立てて王とした。これが卑呼である。

この人物は鬼道につかえ、よく衆の心をつかんでいる。歳はすでにだいぶ取っているが、夫はいない。弟がいて国を治めているのを助けている。王となってこのかた、この人物を見た者は少なく、1000人の婢が、そのまわりにひかえている。ただ男子が一人いて、食事の世話をしたり命令を取り次いだりしている。

この人物のいる建物は柵をめぐらし、武器を持った人が常に護衛している。

この人物が死んだとき大きな塚をつくり、その径は100余歩におよんだ。ともに埋められた奴婢は100余人。そののち男王を立てた。ところが国中がこれに従わず、互いに戦った。

そこで、この人物の宗女トヨを王に立てた。国内の乱は静まった。トヨは13歳であったが、20人をつかわして魏の天子に生口30人、錦などを差し上げた。

1. 中国の歴史書『後漢書』によると、1世紀の中ごろに日本列島にあった国の王が(中国)大陸の国に使いを送り、資料Ⅰの写真の品を与えられたとあるが、この資料Ⅰは何と呼ばれているのか？
 2. 資料Ⅰに彫られている文字は、「漢の倭の奴の国王」と読むのか、それとも、「漢の委奴国王」と読むのか？ 自分の考えを答えなさい。
また、そのように読むと、当時の日本列島の中心はどこ国だったと考えられるのか？ その国名を答えなさい。
- ※・「漢」とは、当時の中国大陸にあった国、「倭」や「奴」や「委奴」は、当時の日本列島にあった国の名前である。

3. 3世紀の日本列島についての資料Ⅱの文章が書かれている中国大陸の国の歴史書を何と云うのか？ 次の中から選んで答えなさい。

魏志倭人伝 三国志 後漢書 後漢書東夷伝 魏志倭国伝 前漢書

4. 資料Ⅱの文章の□に当てはまる女王の名前を答えなさい。
 5. 問4の女王は、何によって国を治めていたのか？ 上の文章の中の言葉で答えなさい。
 6. 問4の女王が治めていた国を何と云うのか？
 7. 問6の国があったと考えられている場所については、日本列島内での2つの説があるが、それはどこどこなのか？ 2つの地方をそれぞれ答えなさい。
 8. 問3の歴史書には、問4の女王が左の写真のようなものを中国大陸にある国から送られたことが記されているが、これを何と云うのか？ 次の語群の中から選んで答えなさい。



タイヤ お盆 銅鏡 道鏡 壁飾り 盾 ボタン 貨幣 鉄鏡 銀鏡 お面

4 次の資料を見て、後の各問いに答えなさい。

7点(38点)

資料Ⅰ

資料Ⅱ

資料Ⅲ

- 資料Ⅰの大阪府堺市にある5世紀に造られた世界最大級の墓は、何とよばれているのか？
- 問1の墓は、方形と円形がつながった形で造られているが、このような形の墓を何と云うのか？ 漢字5文字で答えなさい。
- 墓の周りや上に置かれた資料Ⅱの土製品を何と云うのか？
- 中国から倭王の称号を与えられた、後の大王を中心とする豪族たちのゆるやかな連合勢力を何王権と云うのか？
- 資料Ⅲの中の国や地域のうち、問6の勢力とつながりがあり、後に連合したのはどこだったのか？ 資料Ⅲの中から選んで漢字で答えなさい。
- 問1の形の墓は、九州や中国四国地方、近畿地方、関東地方にも見られ、その地域で富と権力を持った人物がいたことが考えられている。

では、そんな人物のための墓づくりに対して、それらの地域で、普段は米づくりや猟や採集、漁などの生活をしてきた人たちは、**A**：みずから進んで取り組んだのか？ それとも、**B**：強制的に取り組まされたのか？ 自分の考える結論(=AかB)と、その理由については文章で答えなさい。